

## Løsningsforslag eksamen i matematikk 31 mai 2024

### Oppgave 1

Skriv så enkelt som mulig.

a)

$$\frac{4a^2 - b^2}{2ab + b^2} + 1 = \frac{(2a - b)(2a + b)}{b(2a + b)} + 1 = \frac{2a - b}{b} + 1 = \frac{2a - b}{b} + \frac{b}{b} = \frac{2a - b + b}{b} = \underline{\underline{\frac{2a}{b}}}$$

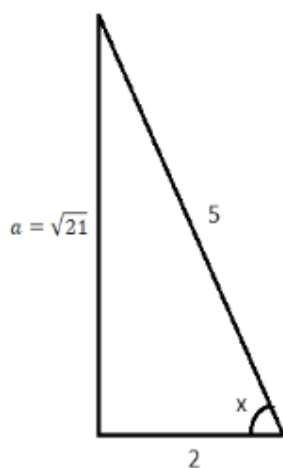
b)

$$\frac{a \cdot \ln b - \ln b^2}{(a - 2) \cdot \ln \sqrt{b}} = \frac{a \cdot \ln b - 2 \ln b}{(a - 2) \cdot \ln b^{\frac{1}{2}}} = \frac{\ln b \cdot (a - 2)}{(a - 2) \cdot \frac{1}{2} \ln b} = \frac{\ln b}{\frac{1}{2} \ln b} = \frac{1}{\frac{1}{2}} = \underline{\underline{2}}$$

### Oppgave 2

a)

Gitt  $\cos x = \frac{2}{5}$ ,  $x \in [0, \frac{\pi}{2}]$ . Finn eksaktverdi til:  $\sin x$ ,  $\sin 2x$  og  $\tan 2x$ .



$$a^2 + 2^2 = 5^2$$

$$a = \sqrt{25 - 4} = \sqrt{21}$$

$$\sin x = \underline{\underline{\frac{\sqrt{21}}{5}}}$$

$$\sin 2x = 2 \cdot \sin x \cdot \cos x = 2 \cdot \frac{\sqrt{21}}{5} \cdot \frac{2}{5} = \frac{4\sqrt{21}}{25}$$

$$\cos 2x = 2\cos^2 x - 1 = 2 \cdot \left(\frac{2}{5}\right)^2 - 1 = 2 \cdot \frac{4}{25} - \frac{25}{25} = \frac{8}{25} - \frac{25}{25} = -\frac{17}{25}$$

$$\tan 2x = \frac{\sin 2x}{\cos 2x} = \frac{\frac{4\sqrt{21}}{25}}{-\frac{17}{25}} = \frac{4\sqrt{21}}{25} \cdot \frac{25}{-17} = -\frac{4\sqrt{21}}{17}$$

b)

Gitt funksjonen  $r(x) = \frac{x^2 - 3x + 2}{x - 1}$ . Finn  $\lim_{x \rightarrow 2} r(x)$  og  $\lim_{x \rightarrow 1} r(x)$ .

$$x^2 - 3x + 2 = 0$$

$$x = \frac{-(-3) \pm \sqrt{(-3)^2 - 4 \cdot 1 \cdot 2}}{2 \cdot 1} = \frac{3 \pm 1}{2} \rightarrow x_1 = 2 \quad x_2 = 1$$

$$x^2 - 3x + 2 = (x - 1)(x - 2) = (x - 1)(x - 2)$$

$$\lim_{x \rightarrow 2} r(x) = \lim_{x \rightarrow 2} \frac{x^2 - 3x + 2}{x - 1} = \frac{2^2 - 3 \cdot 2 + 2}{2 - 1} = \frac{0}{1} = \underline{\underline{0}}$$

$$\lim_{x \rightarrow 1} r(x) = \frac{x^2 - 3x + 2}{x - 1} = \lim_{x \rightarrow 1} \frac{(x - 1)(x - 2)}{x - 1} = \lim_{x \rightarrow 1} (x - 2) = 1 - 2 = \underline{\underline{-1}}$$

### Oppgave 3

Deriver funksjonene og forenkle svarene mest mulig.

a)

$$f(x) = \frac{2 \sin x}{x^2}$$

$$u = 2 \sin x$$

$$u' = 2 \cos x$$

$$v = x^2$$

$$v' = 2x$$

$$f'(x) = \frac{u'v - uv'}{v^2} = \frac{2 \cos x \cdot x^2 - 2 \sin x \cdot 2x}{(x^2)^2} = \frac{2x(x \cos x - 2 \sin x)}{x^4} = \frac{2(x \cos x - 2 \sin x)}{x^3}$$

b)

$$g(x) = \frac{1}{2} \ln(2x^2 - 2x^4)$$

$$u = 2x^2 - 2x^4 \quad u' = 4x - 8x^3$$

$$g(u) = \frac{1}{2} \ln u \quad g'(u) = \frac{1}{2} \cdot \frac{1}{u} = \frac{1}{2u}$$

$$g'(x) = g'(u) \cdot u' = \frac{1}{2u} \cdot (4x - 8x^3) = \frac{4x - 8x^3}{2(2x^2 - 2x^4)} = \frac{4x(1 - 2x^2)}{2 \cdot 2x^2(1 - x^2)} = \frac{1 - 2x^2}{x(1 - x^2)}$$

c)

Finn likningen for tangenten til funksjonen  $h(x) = x \ln x$  gjennom punktet  $(e, h(e))$ .

$$h(x) = x \ln x$$

$$u = x \quad u' = 1$$

$$v = \ln x \quad v' = \frac{1}{x}$$

$$h'(x) = uv' + u'v = x \cdot \frac{1}{x} + 1 \cdot \ln x = \ln x + 1$$

$$y - y_1 = h'(x_1)(x - x_1)$$

$$x_1 = e \quad y_1 = h(x_1) = e \ln e = e \quad h'(x_1) = h'(e) = \ln e + 1 = 2$$

$$y - e = 2(x - e)$$

$$y = 2x - 2e + e$$

$$\underline{\underline{y = 2x - e}}$$

## Oppgave 4

Løs ulikheten og likningene.

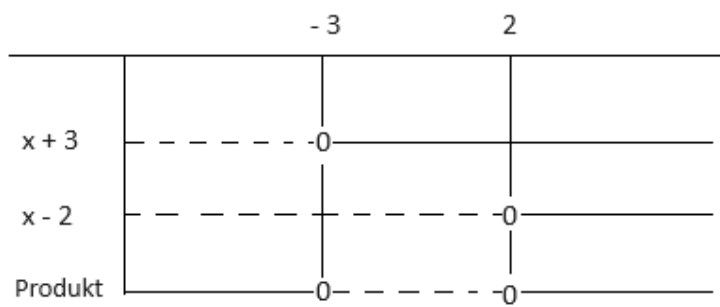
a)

$$x^2 + x - 6 \leq 0$$

$$x^2 + x - 6 = 0$$

$$x = \frac{-1 \pm \sqrt{1^2 - 4 \cdot 1 \cdot (-6)}}{2 \cdot 1} = \frac{-1 \pm 5}{2} \rightarrow x_1 = -3 \quad x_2 = 2$$

$$x^2 + x - 6 = (x - (-3))(x - 2) = (x + 3)(x - 2)$$



$$\underline{\underline{x \in [-3, 2]}}$$

b)

$$\frac{18 - 5^x}{5^x} = 5^x + 2$$

$$\frac{18 - 5^x}{5^x} = 5^x + 2 \quad | \cdot 5^x$$

$$\frac{(18 - 5^x)5^x}{5^x} = (5^x + 2)5^x$$

$$18 - 5^x = (5^x)^2 + 2 \cdot 5^x$$

$$(5^x)^2 + 3 \cdot 5^x - 18 = 0$$

$$u = 5^x$$

$$u^2 + 3 \cdot u - 18 = 0$$

$$u = \frac{-3 \pm \sqrt{3^2 - 4 \cdot 1 \cdot (-18)}}{2 \cdot 1} = \frac{-3 \pm 9}{2} \quad \rightarrow \quad u_1 = 3 \quad u_2 = -6$$

$$5^x = 3$$

$$5^x = -6$$

$$\ln 5^x = \ln 3$$

$$\emptyset$$

$$x \ln 5 = \ln 3$$

$$\underline{\underline{x = \frac{\ln 3}{\ln 5}}}$$

c)

$$\frac{\sqrt{3}}{\sin(2\pi x)} - 2 = 0, \quad x \in [0, 1]$$

$$\frac{\sqrt{3}}{\sin(2\pi x)} = 2$$

$$\sqrt{3} = 2 \sin(2\pi x)$$

$$\sin(2\pi x) = \frac{\sqrt{3}}{2}$$

$$2\pi x = \frac{\pi}{3} + k2\pi$$

$$2\pi x = \pi - \frac{\pi}{3} + k2\pi$$

$$2\pi x = \frac{\pi}{3} + k2\pi$$

$$2\pi x = \frac{2\pi}{3} + k2\pi$$

$$x = \frac{\pi}{3 \cdot 2\pi} + \frac{k2\pi}{2\pi}$$

$$x = \frac{2\pi}{3 \cdot 2\pi} + \frac{k2\pi}{2\pi}$$

$$x = \frac{1}{6} + k$$

$$x = \frac{1}{3} + k$$

$$x = \frac{1}{6} + 0 = \frac{1}{6}$$


$$x = \frac{1}{3} + 0 = \frac{1}{3}$$

$$\underline{\underline{x = \frac{1}{6} \quad x = \frac{1}{3}}}$$

## Oppgave 5

a)

I tegneseriestripen under skal en gutt regne ut  $13 \cdot 3$ . Han får «hjelp» av en robot. Forklar hvorfor robotens innspill gir rett svar.



$$\int_0^{13} (3\sin^2 x + 3\cos^2 x) dx = 3 \int_0^{13} (\sin^2 x + \cos^2 x) dx = 3 \int_0^{13} 1 \cdot dx = 3[x]_0^{13} = 3(13 - 0)$$

$$\underline{\underline{= 13 \cdot 3}}$$

Løs integralene.

b)

$$\int 3(x^2 + 4x + 4) dx = 3 \int (x^2 + 4x + 4) dx = 3 \left( \frac{1}{3} x^3 + \frac{4}{2} x^2 + 4x \right) + C = \underline{\underline{x^3 + 6x^2 + 12x + C}}$$

c)

$$\int \frac{3}{x^2 + 4x + 4} dx = \int \frac{3}{(x + 2)^2} dx = \int \frac{3}{u^2} du = 3 \int u^{-2} du = \frac{3}{-2 + 1} u^{-2+1} + C$$

$$= -3u^{-1} + C$$

$$u = x + 2$$

$$\frac{du}{dx} = 1$$

$$dx = du$$

$$= \frac{-3}{u} + C = \underline{\underline{\frac{-3}{x + 2} + C}}$$

d)

$$\int_{-3}^{-1} \frac{x + 2}{x^2 + 4x} dx = \frac{1}{2} \int_{-3}^{-1} \frac{2x + 4}{x^2 + 4x} dx = \frac{1}{2} [\ln|x^2 + 4x|]_{-3}^{-1}$$

$$= \frac{1}{2} (\ln|(-1)^2 + 4(-1)| - \ln|(-3)^2 + 4(-3)|) = \frac{1}{2} (\ln|1 - 4| - \ln|9 - 12|)$$

$$= \frac{1}{2} (\ln 3 - \ln 3) = \underline{\underline{0}}$$

## Oppgave 6

Gitt funksjonen

$$f(x) = 4x^3 + 4x^2 - 4x - \frac{5}{2}$$

a)

Vis at  $x = -\frac{1}{2}$  er et nullpunkt for  $f$ , og finn evt. andre nullpunkter.

$$f\left(-\frac{1}{2}\right) = 4\left(-\frac{1}{2}\right)^3 + 4\left(-\frac{1}{2}\right)^2 - 4\left(-\frac{1}{2}\right) - \frac{5}{2} = 4\left(-\frac{1}{8}\right) + 4\left(\frac{1}{4}\right) - 4\left(-\frac{1}{2}\right) - \frac{5}{2}$$

$$= -\frac{1}{2} + 1 + 2 - \frac{5}{2} = -\frac{1}{2} + \frac{2}{2} + \frac{4}{2} - \frac{5}{2} = 0$$

$$\left(4x^3 + 4x^2 - 4x - \frac{5}{2}\right) : \left(x + \frac{1}{2}\right) = 4x^2 + 2x - 5$$

$$\begin{array}{r} -(4x^3 + 2x^2) \\ \hline 2x^2 - 4x \\ 2x^2 + x \\ \hline -5x - \frac{5}{2} \\ -5x - \frac{5}{2} \\ \hline 0 \end{array}$$

$$4x^2 + 2x - 5 = 0$$

$$x = \frac{-2 \pm \sqrt{2^2 - 4 \cdot 4(-5)}}{2 \cdot 4} = \frac{-2 \pm \sqrt{84}}{8} = \frac{-2 \pm 2\sqrt{21}}{8} = \frac{-1 \pm \sqrt{21}}{4}$$

$$\underline{\underline{\text{Nullpunkter: } \frac{-1 - \sqrt{21}}{4}, -\frac{1}{2} \text{ og } \frac{-1 + \sqrt{21}}{4}}}}$$



b)

Finn eventuelle ekstremalpunkter på grafen til  $f$  ved regning, og drøft funksjonens monotoniegenskaper.

$$f'(x) = 12x^2 + 8x - 4 = 0$$

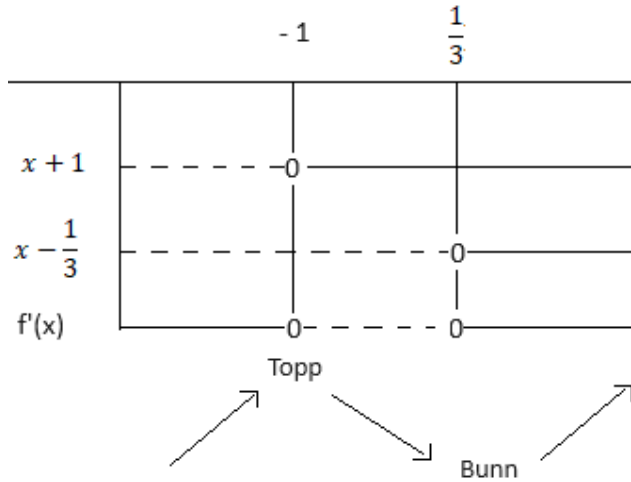
$$3x^2 + 2x - 1 = 0$$

$$x = \frac{-2 \pm \sqrt{2^2 - 4 \cdot 3(-1)}}{2 \cdot 3} = \frac{-2 \pm 4}{6}$$

$$x_1 = -1 \quad x_2 = \frac{1}{3}$$

$$\underline{\underline{Ekstremalpunkter  $x = -1$  og  $x = \frac{1}{3}$ }}$$

$$f'(x) = 12(x + 1)\left(x - \frac{1}{3}\right)$$



Funksjonen stiger når  $x \in \langle \leftarrow, -1 \rangle \cup \langle \frac{1}{3}, \rightarrow \rangle$

Funksjonen synker når  $x \in \langle -1, \frac{1}{3} \rangle$

c)

Finn likningen for normalen til  $f$  der grafen skjærer  $y$ -aksen.

$$f(0) = 4 \cdot 0^3 + 4 \cdot 0^2 - 4 \cdot 0 - \frac{5}{2} = -\frac{5}{2}$$

$$y - y_1 = -\frac{1}{f'(x_1)}(x - x_1)$$

$$x_1 = 0 \quad y_1 = f(x_1) = f(0) = -\frac{5}{2} \quad f'(x_1) = 12 \cdot 0^2 + 8 \cdot 0 - 4 = -4$$

$$y - \left(-\frac{5}{2}\right) = -\frac{1}{-4}(x - 0)$$

$$\underline{\underline{y = \frac{1}{4}x - \frac{5}{2}}}$$

## Oppgave 7

Punktene  $A(1,1,0)$ ,  $B(2,4,0)$  og  $C(2,2,4)$  danner hjørnene i trekanten ABC.

a)

Finn vinkel A i trekanten.

$$\vec{AB} = [2 - 1, 4 - 1, 0 - 0] = [1, 3, 0]$$

$$\vec{AC} = [2 - 1, 2 - 1, 4 - 0] = [1, 1, 4]$$

$$|\vec{AB}| = \sqrt{1^2 + 3^2 + 0^2} = \sqrt{10}$$

$$|\vec{AC}| = \sqrt{1^2 + 1^2 + 4^2} = \sqrt{18} = 3\sqrt{2}$$

$$\vec{AB} \cdot \vec{AC} = [1, 3, 0] \cdot [1, 1, 4] = 1 \cdot 1 + 3 \cdot 1 + 0 \cdot 4 = 4$$

$$\cos A = \frac{\vec{AB} \cdot \vec{AC}}{|\vec{AB}| \cdot |\vec{AC}|} = \frac{4}{\sqrt{10} \cdot 3\sqrt{2}} \quad \rightarrow \quad A = \cos^{-1} \frac{4}{\sqrt{10} \cdot 3\sqrt{2}} = \underline{\underline{72.65^\circ}}$$

b)

Finn arealet av trekanten ABC.

$$A = \frac{1}{2} \cdot |\vec{AB}| \cdot |\vec{AC}| \sin A = \frac{1}{2} \cdot \sqrt{10} \cdot 3\sqrt{2} \cdot \sin 72.65^\circ = \underline{\underline{6.40}}$$

c)

Finn en likning og en parameterframstilling til planet  $\beta$  gjennom punktene A, B og C.

$$\begin{vmatrix} \vec{e}_x & \vec{e}_y & \vec{e}_z \\ 1 & 3 & 0 \\ 1 & 1 & 4 \end{vmatrix} = \vec{e}_x(3 \cdot 4 - 0 \cdot 1) - \vec{e}_y(1 \cdot 4 - 0 \cdot 1) + \vec{e}_z(1 \cdot 1 - 3 \cdot 1) = [12, -4, -2]$$

$$\vec{AB} \times \vec{AC} = [12, -4, -2] = 2[6, -2, -1] \quad \vec{n} = [6, -2, -1]$$

$$a(x - x_1) + b(y - y_1) + c(z - z_1)$$

$$6(x - 1) - 2(y - 1) - 1(z - 0) = 0$$

$$6x - 6 - 2y + 2 - z = 0$$

$$6x - 2y - z - 4 = 0$$

$$\beta = \begin{cases} x = 1 + 1s + 1t \\ y = 1 + 3s + 1t \\ z = 0 + 0s + 4t \end{cases} = \begin{cases} x = 1 + s + t \\ y = 1 + 3s + t \\ z = 4t \end{cases}$$

d)

Et punkt D ligger på y-aksen. Finn koordinatene til D slik at  $\overrightarrow{AD} \perp \overrightarrow{BC}$ .

$$D(0, y, 0) \quad \overrightarrow{AD} = [-1, y - 1, 0] \quad \overrightarrow{BC} = [0, -2, 4]$$

$$\overrightarrow{AD} \cdot \overrightarrow{BC} = 0$$

$$[-1, y - 1, 0] \cdot [0, -2, 4] = 0$$

$$-1 \cdot 0 + (y - 1) \cdot (-2) + 0 \cdot 4 = 0$$

$$-2y + 2 = 0$$

$$-2y = -2$$

$$y = 1$$

$$\underline{\underline{D(0,1,0)}}$$

e)

Et punkt E er gitt slik at  $\overrightarrow{AE} = 2\overrightarrow{AB} - \overrightarrow{BC}$ . Finn koordinatene til punktet E.

$$\overrightarrow{AE} = 2\overrightarrow{AB} - \overrightarrow{BC} = 2[1, 3, 0] - [0, -2, 4] = [2, 6, 0] - [0, -2, 4] = [2 - 0, 6 - (-2), 0 - 4]$$

$$= [2, 8, 0]$$

$$\overrightarrow{OE} = \overrightarrow{OA} + \overrightarrow{AE} = [1, 1, 0] + [2, 8, -4] = [3, 9, -4] \quad \rightarrow \quad \underline{\underline{E(3,9,-4)}}$$

## Oppgave 8

Gitt en aritmetisk følge med  $a_1 = \frac{1}{3}$  og  $d = \frac{5}{3}$ . Programkoden under regner ut den minste verdien av  $n$  som er slik at  $a_n \geq 200$ .

```
1 a1 = 1/3
2 d = 5/3
3 n = 1
4 an = a1
5 while an < 200:
6     an = an + ?
7     n = ?
8 print(f"n = {n}, an = {an}")
```

a)

Hva skal stå i boksene på linje 6 og 7? Forklar hva som skjer i while-løkken.

Linje 6:  $an = an + d$

Linje 7:  $n = n + 1$

While-løkken legger til  $d$  (differansen) i det aktuelle leddet i følgen, og øker indeksen  $n$  med 1.

b)

Finn verdien av  $n$  som programmet regner ut.

Vi vil ha  $n$ -verdien som gir  $a_n \geq 200$ . Siden ledd  $n$  er  $a_n = a_1 + (n - 1)d$ , får vi

$$a_1 + (n - 1)d \geq 200$$

$$n \geq \frac{200 - \frac{1}{3}}{\frac{5}{3}} + 1$$

$$n \geq \frac{599}{5} + 1$$

$$n \geq 120,8$$

Altså må  $n \geq 121$ . Programmet gir dermed  $n = 121$ .

## Oppgave 9

Du har fått utlevert 100 m gjerde, og skal gjerde inn et kvadratisk område og et sirkelformet område. Kvadratet har sidekant  $x$  og sirkelen har radius  $r$ .

a)

$$\text{Vis at } x = 25 - \frac{1}{2}\pi r.$$

$$4x + 2\pi r = 100$$

$$4x = 100 - 2\pi r$$

$$x = \frac{100}{4} - \frac{2\pi r}{4} = \underline{\underline{25 - \frac{1}{2}\pi r}}$$

b)

Finn den verdien av  $r$  som gir så lite samlet areal som mulig. Hva er verdien av  $x$  da?

$$A(r) = x^2 + \pi r^2 = \left(25 - \frac{1}{2}\pi r\right)^2 + \pi r^2$$

$$A'(r) = 2\left(25 - \frac{1}{2}\pi r\right)\left(-\frac{1}{2}\pi\right) + 2\pi r = 2\left(-\frac{25}{2}\pi + \frac{1}{4}\pi^2 r\right) + 2\pi r = \frac{1}{2}\pi^2 r + 2\pi r - 25\pi$$

$$A''(r) = \frac{1}{2}\pi^2 + 2\pi$$

$$A'(r) = 0$$

$$-25\pi + \frac{1}{2}\pi^2 r + 2\pi r = 0$$

$$\left(\frac{1}{2}\pi^2 + 2\pi\right)r = 25\pi$$

$$r = \frac{25\pi}{\frac{1}{2}\pi^2 + 2\pi} = \frac{50\pi}{\pi^2 + 4\pi} = \frac{50\pi}{(\pi + 4)\pi} = \frac{50}{\pi + 4}$$

$$A''\left(\frac{50}{\pi + 4}\right) = \frac{1}{2}\pi^2 + 2\pi > 0 \text{ minpunkt}$$

$$\underline{\underline{\text{Minst areal når } r = \frac{50}{\pi + 4} \text{ m}}}$$

$$x = \frac{1}{2}\pi r = \frac{1}{2}\pi \cdot \frac{50}{\pi + 4} = \underline{\underline{\frac{25\pi}{\pi + 4} \text{ m}}}$$

c)

Størst mulig areal får vi ved kun å lage en sirkel (dvs.  $x = 0$ ). Hvor mange prosent større areal får du da enn om du kun lager et kvadrat?

$$O = 2\pi r$$

$$2\pi r = 100$$

$$r = \frac{100}{2\pi} = \frac{50}{\pi}$$

$$\text{Areal sirkel} = \pi r^2 = \pi \left(\frac{50}{\pi}\right)^2 = \frac{2500}{\pi}$$

$$\text{Areal kvadrat} = \frac{100}{4} \cdot \frac{100}{4} = 25 \cdot 25 = 625$$

$$\text{Økning av areal: } \frac{2500}{\pi} - 625$$

$$\text{Prosentøkning: } \frac{\frac{2500}{\pi} - 625}{625} \cdot 100\% = \underline{\underline{27.3\%}}$$