

Eksamen i Ma 2000 for Bygg/maskin , 4 febr. 2011

OPPGAVE 1

- a) Skriv uttrykket $-\cos 4t + \sqrt{3} \sin 4t$ på formen $A \sin(\omega t + \phi)$. Hva er amplituden og perioden til denne harmoniske svingningen?
- b) Løs initialverdi problemet $4y'' + 12y' + 9y = 0$, $y(0) = 0$, $y'(0) = 1$.

OPPGAVE 2

En flate F er gitt som grafen til funksjonen $z = f(x, y) = 2x^3 + y^3 - 9x^2 - 3y + 5$.

- a) Regn ut de partielt deriverte til f av første og andre orden.
- b) Bestem ligningen for tangentplanet i punktet $(1, 1, -4)$. Dette planet er parallelt med en av de 3 koordinataksene. Hvilken koordinatakse?
- c) La $c = f(a, b)$. Finn c når $(a, b) = (0.5, 2)$. Vi tenker oss a og b er målte verdier med en maksimal målefeil på 0.04 for a og 0.03 for b , dvs. at $a = 0.50 \pm 0.04$ og $b = 2.00 \pm 0.03$. Finn den usikkerheten dette gir for verdien av c .
- d) Finn de kritiske punktene til f og angi deres type.
- e) Vertikalplanet $4x - y = 0$ skjærer flaten F i en kurve C . Finn stigningstallet til tangenten til C i punktet $(\frac{1}{2}, 2, 5)$.

OPPGAVE 3

- a) Avgjør om følgende rekker konvergerer eller divergerer. Finn summen til de rekkene som konvergerer.

$$\sum_{n=1}^{\infty} \frac{n^2}{n\sqrt{n} + 7n^2} \quad \text{og} \quad \sum_{n=1}^{\infty} \frac{9 \cdot 2^{2n}}{5^{n+1}}$$

- b) Finn konvergensområdet til rekka $\sum_{n=1}^{\infty} (-1)^{n-1} \frac{x^{2n}}{n \cdot (2n)!}$.

- c) Vis at Maclaurinrekka til $f(x) = \frac{1 - \cos x}{x}$ (og $f(0) = 0$) er lik $\sum_{n=1}^{\infty} (-1)^{n-1} \frac{x^{2n-1}}{(2n)!}$.

Bruk potensrekka til f til å finne $f^{(4)}(0)$.

- d) Finn potensrekka til $\int_0^x f(t) dt$ og bestem summen av rekka i b). (Hvis denne summen blir et integral, så er det ikke meningen du skal løse dette integralet.)

OPPGAVE 4

Funksjonen f er kontinuerlig og periodisk med periode 2π og grafen er symmetrisk om y -aksen. I intervallet $(0, \pi)$ er f gitt ved $f(x) = \pi - x$.

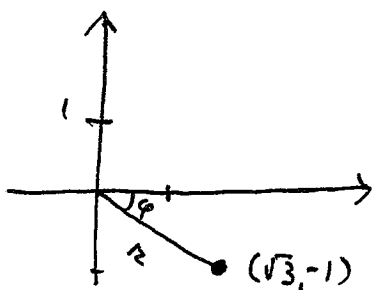
a) Bestem Fourierrekka til $f(x)$.

b) Tegn grafen til summen av rekka i intervallet $[-3\pi, 3\pi]$. Er summen alltid lik $f(x)$?
La g være funksjonen $g(x) = \pi - x$, $0 < x < \pi$. Tegn grafen til summen av Fourier sinus rekka i intervallet $[-3\pi, 3\pi]$ uten å beregne koeffisientene i Fourier sinus rekka.

c) Bruk Fourierrekka til $f(x)$ til å finne summen av rekka $\sum_{k=1}^{\infty} \frac{1}{(2k-1)^2}$.

Oppg. 1 $-\cos 4t + \sqrt{3} \sin 4t = r \sin(4t + \varphi)$ der

a)



$$r = \sqrt{\sqrt{3}^2 + (-1)^2} = 2$$

$$\tan \varphi = \frac{y}{x} = -\frac{1}{\sqrt{3}}, \quad \varphi = -30^\circ \left(-\frac{\pi}{6}\right)$$

$$\Rightarrow -\cos 4t + \sqrt{3} \sin 4t = \underline{\underline{2 \sin\left(4t - \frac{\pi}{6}\right)}}$$

Perioden er : $4T = 2\pi \Rightarrow T = \underline{\underline{\frac{\pi}{2}}}$, Amplituden : $r = \underline{\underline{2}}$

b) $4y'' + 12y' + 9y = 0$, $y(0) = 0$, $y'(0) = 1$

Kar. ligning : $4r^2 + 12r + 9 = 0 \Leftrightarrow (2r+3)^2 = 0$

der $2r+3=0$, $r = \underline{\underline{-\frac{3}{2}}}$ er en dobbeltrot

Løsninger :

$\underline{\underline{e^{-\frac{3}{2}t}}}$ og $\underline{\underline{te^{-\frac{3}{2}t}}}$

Generell løsn. $y = (c_1 + c_2 t) e^{-\frac{3}{2}t}$

$y' = c_2 e^{-\frac{3}{2}t} + (c_1 + c_2 t) e^{-\frac{3}{2}t} \cdot \left(-\frac{3}{2}\right)$

For

$y(0) = c_1 = 0$

$\Leftrightarrow c_1 = 0, c_2 = 1$

$y'(0) = c_2 - \frac{3}{2}c_1 = 1$

Løsningen av initialverdiproblemet er : $\underline{\underline{y = te^{-\frac{3}{2}t}}}$

Oppg. 2

$z = f(x,y) = 2x^3 + y^3 - 9x^2 - 3y + 5$

a) $\underline{\underline{z_x = 6x^2 - 18x}}$, $\underline{\underline{z_y = 3y^2 - 3}}$

$\underline{\underline{z_{xx} = 12x - 18}}$, $\underline{\underline{z_{xy} = z_{yx} = 0}}$, $\underline{\underline{z_{yy} = 6y}}$

b) $f(1,1) = 2+1-9-3+5 = -4 \Rightarrow (1,1,-4)$ ligger på F

(2)

Tangentplanet $z - (-4) = z_x(1,1)(x-1) + z_y(1,1)(y-1)$

$$\text{dvs } z+4 = -12(x-1) - 0 \cdot (y-1) = -12x+12$$

$$\text{dvs } \underline{\underline{z = -12x + 8}}$$

Hvis (x_0, z_0) passer i denne lign., så vil (x_0, y, z_0) også passe uansett hva du velger for $y \Rightarrow$ planet er parallelt med y-aksen

$$c) \quad c = f(0.5, 2) = 2 \cdot \frac{1}{2^3} + 2^3 - 9 \cdot \frac{1}{2^2} - 3 \cdot 2 + 5 = \underline{\underline{5}}$$

Med $dx = 0.04$ og $dy = 0.03$, så får vi:

$$\begin{aligned} \text{Max. usikkerhet i } c &: |z_x(0.5, 2) dx| + |z_y(0.5, 2) dy| \\ &= |-7.5 \cdot 0.04| + |9 \cdot 0.03| = 0.30 + 0.27 = \underline{\underline{0.57}} \end{aligned}$$

$$\text{dvs } c = \underline{\underline{5.00 \pm 0.57}}$$

d) Kritiske punkter: $z_x = 0$ og $z_y = 0 \Leftrightarrow$

$$6x(x-3) = 0 \text{ og } 3(y^2-1) = 3(y-1)(y+1) = 0$$

$$\text{Løsninger: } (x, y) = \underline{\underline{(0, 1), (0, -1), (3, 1), (3, -1)}}$$

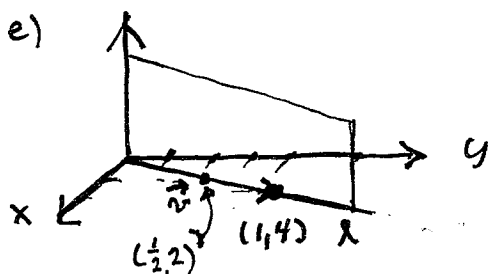
$$\text{Type? } \Delta = z_{xx} \cdot z_{yy} - z_{xy}^2 = \underline{\underline{6 \cdot (2x-3) \cdot 6y}}$$

$$(0, 1) \Rightarrow \Delta = 6 \cdot (-3) \cdot 6 < 0 \Rightarrow \underline{\underline{(0, 1) \text{ et sadelpunkt}}}$$

$$(0, -1) \Rightarrow \Delta = 6 \cdot (-3) \cdot 6 \cdot (-1) > 0, \quad z_{xx} = -18 < 0 \Rightarrow \underline{\underline{(0, -1) \text{ max. pkt}}}$$

$$(3, 1) \Rightarrow \Delta = 6 \cdot 3 \cdot 6 > 0, \quad z_{xx} = 18 > 0 \Rightarrow \underline{\underline{(3, 1) \text{ et min. pkt}}}$$

$$(3, -1) \Rightarrow \Delta = 6 \cdot 3 \cdot 6 \cdot (-1) < 0 \Rightarrow \underline{\underline{(3, -1) \text{ et sadelpunkt}}}$$



$(1, 4, z)$ passer i planets lign. $(4x-y=0)$
 uansett valg av $z \Rightarrow$ det er et
 vertikalt plan og
 $\vec{n} = [1, 4]$ = rettn. vektor for l.

Stigm. tallet (med voksende verdi av x) til tangenten = den retningssderiverte i retning \vec{v} = $\nabla f(\frac{1}{2}, 2) \cdot \frac{\vec{v}}{|\vec{v}|}$

$$= [z_x(\frac{1}{2}, 2), z_y(\frac{1}{2}, 2)] \cdot \frac{\vec{v}}{|\vec{v}|} = [-7.5, 9] \cdot \frac{[1, 4]}{\sqrt{1+4^2}} = \frac{-7.5+36}{\sqrt{17}} = \frac{57}{2\sqrt{17}}$$

(Se c)

Oppg. 3

a) $\sum_{n=1}^{\infty} \frac{m^2}{n\sqrt{n}+7n^2}$. $a_n = \frac{m^2}{m\sqrt{n}+7n^2} = \frac{1}{\frac{m\sqrt{n}}{m^2}+7}$

Ser at $a_n = \frac{1}{\frac{1}{\sqrt{n}}+7} \rightarrow \frac{1}{0+7} = \frac{1}{7} \neq 0. \Rightarrow$

$\sum a_n$ divergerer etter divergenzkriteriet

$\sum_{n=1}^{\infty} \frac{9 \cdot 2^{2n}}{5^{n+1}}$. La $b_n = \frac{9 \cdot 2^{2n}}{5^{n+1}}$. Da vil

$b_{n+1} \cdot \frac{1}{b_n} = \frac{9 \cdot 2^{2n+2}}{5^{n+2}} \cdot \frac{5^{n+1}}{9 \cdot 2^{2n}} = \frac{2^2}{5} = \frac{4}{5}$ geom. rekke!
fordi $\frac{b_{n+1}}{b_n}$ er

Den geom. rekke er konvergent uavhengig av n

fordi $k = \frac{4}{5} < 1$ ($|k| < 1$)

Rekkes sum er

$$s = \frac{b_1}{1-k} = \frac{\frac{9 \cdot 2^2}{5^2}}{1 - \frac{4}{5}} = 5 \cdot \frac{9 \cdot 4}{5^2} = \frac{36}{5}$$

b) $\sum_{n=1}^{\infty} (-1)^{n-1} \cdot \frac{x^{2n}}{n \cdot (2n)!}$. La $a_n = (-1)^{n-1} \cdot \frac{x^{2n}}{n \cdot (2n)!} = 1$

$$\left| \frac{a_{n+1}}{a_n} \right| = \frac{x^{2n+2}}{(n+1) \cdot (2n+2)!} \cdot \frac{n \cdot (2n)!}{x^{2n}} = \frac{n \cdot x^2 \cdot 1 \cdot 2 \cdot 3 \cdots \cdot (2n)}{(n+1) \cdot 1 \cdot 2 \cdot 3 \cdots (2n)(2n+1)(2n+2)}$$

$\Rightarrow \left| \frac{a_{n+1}}{a_n} \right| = \frac{n x^2}{(n+1)(2n+1)(2n+2)} \rightarrow 0$ når $n \rightarrow \infty$. Rekke konv. for alle x etter forholds-krit

\Rightarrow konv. området er alle reelle tall

$$c) \text{ Vet } \cos x = 1 - \frac{x^2}{2!} + \frac{x^4}{4!} - \dots + (-1)^m \frac{x^{2m}}{(2m)!} + \dots, x \in \mathbb{R}$$

$$\begin{aligned} \Rightarrow 1 - \cos x &= 1 - \left(1 - \frac{x^2}{2!} + \frac{x^4}{4!} - \dots + (-1)^m \frac{x^{2m}}{(2m)!} + \dots \right) \\ &= \frac{x^2}{2!} - \frac{x^4}{4!} + \dots - (-1)^m \frac{x^{2m}}{(2m)!} + \dots, x \in \mathbb{R} \end{aligned}$$

$$\Rightarrow \underline{\underline{f(x) = \frac{x}{2!} - \frac{x^3}{4!} + \dots + (-1)^{m+1} \frac{x^{2m-1}}{(2n)!} + \dots, x \in \mathbb{R}}}$$

Dette er Mac. rekke det spørres etter $(-1)^{n+1} = (-1)^{m-1}$

Mac. rekke er også gitt ved

$$f(x) = a_0 + a_1 x + a_2 x^2 + a_3 x^3 + \dots \quad \text{der } a_m = \frac{f^{(m)}(0)}{m!}$$

Fordi x^4 -leddet i Mac. rekke mangler, så må

$$a_4 = 0 \Rightarrow \underline{\underline{f^{(4)}(0) = a_4 \cdot 4! = 0}}$$

d) Integrerer Mac. rekke til $f(x)$ ledd for ledd og får

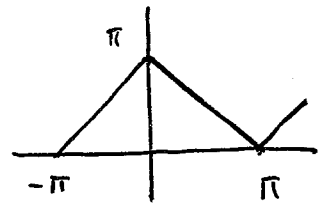
$$\int_0^x f(t) dt = \frac{x^2}{2 \cdot 2!} - \frac{x^4}{4 \cdot 4!} + \dots + (-1)^{m-1} \frac{x^{2m}}{(2n) \cdot (2n)!} + \dots, x \in \mathbb{R}$$

$$\text{Altså er } \sum_{m=1}^{\infty} (-1)^{m-1} \frac{x^{2m}}{2n \cdot (2n)!} = \int_0^x f(t) dt \Rightarrow \text{ ganger med 2}$$

$$\sum_{n=1}^{\infty} (-1)^{m-1} \frac{x^{2n}}{n \cdot (2n)!} = \underline{\underline{2 \int_0^x f(t) dt = 2 \int_0^x \frac{1 - \cos t}{t} dt}}$$

Oppg. 4

a)



Sym. om y-aksen $\Rightarrow b_m = 0$ og

$$a_0 = \frac{1}{\pi} \int_0^{\pi} f(x) dx = \frac{1}{\pi} \cdot \text{"areal"} = \frac{1}{\pi} \cdot \frac{1}{2} \pi^2 = \frac{\pi}{2}$$

$$a_n = \frac{2}{\pi} \int_0^{\pi} f(x) \cos nx dx = \frac{2}{\pi} \int_0^{\pi} (\pi-x) \cos nx dx = \frac{2}{\pi} \left[(\pi-x) \frac{\sin nx}{n} - \int \frac{\sin nx}{n} (-1) dx \right]_0^{\pi}$$

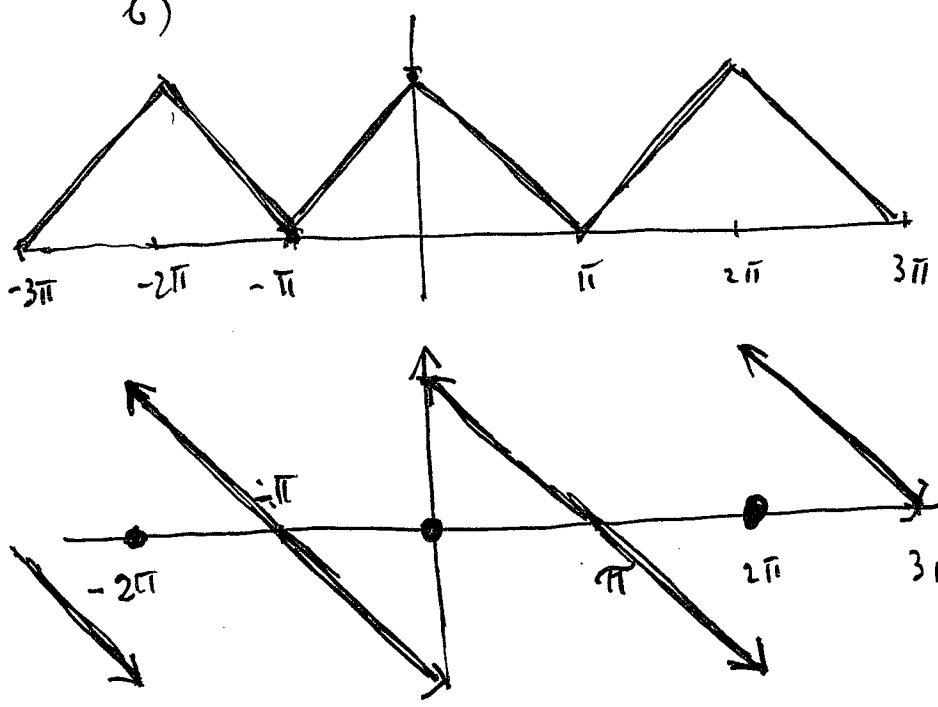
$$a_n = \frac{2}{\pi} \cdot \frac{1}{n} \int_0^{\pi} \sin nx dx = \frac{2}{\pi n} \cdot \left[-\frac{\cos nx}{n} \right]_0^{\pi} = \frac{2}{\pi n} \cdot \frac{1 - \cos n\pi}{n}$$

$$\text{dvs } a_n = \frac{2}{\pi} \cdot \frac{1 - \cos n\pi}{n^2} = \begin{cases} 0 & \text{m\u00e5r } n=2k \\ \frac{4}{\pi n^2} & \text{m\u00e5r } n=2k-1 \end{cases}$$

Fourierrekke n:

$$f(x) = a_0 + \sum_{n=1}^{\infty} a_n \cos nx = \frac{\pi}{2} + \sum_{k=1}^{\infty} a_{2k-1} \cos(2k-1)x = \frac{\pi}{2} + \frac{4}{\pi} \sum_{k=1}^{\infty} \frac{\cos(2k-1)x}{(2k-1)^2}$$

b)



S\u00f8mmen er alltid (dvs for alle x) lik f(x) fordi f er kont. for alle x

Grafen til s\u00f8mmen er Fourier sinusrekke er Sym. om origo! (middelverdi i diskont. punktene)

c) Sett $x=0$ inn i Fourier rekke i (a). $\cos 0 = 1$ gir

$$f(0) = \frac{\pi}{2} + \frac{4}{\pi} \cdot \sum_{k=1}^{\infty} \frac{1}{(2k-1)^2} \Rightarrow \pi - \frac{\pi}{2} = \frac{4}{\pi} \cdot \sum_{k=1}^{\infty} \frac{1}{(2k-1)^2}, \text{ Far}$$

$$\frac{4}{\pi} \cdot \sum_{k=1}^{\infty} \frac{1}{(2k-1)^2} = \frac{\pi}{2} \Rightarrow \sum_{k=1}^{\infty} \frac{1}{(2k-1)^2} = \frac{\pi^2}{8}$$