

Eksamen i	FO929A Matematikk
	Ordinær Eksamen
Dato	2. juni 2009
Tidspunkt	09.00 - 14.00
Antall oppgaver	5
Vedlegg	Formelsamling
Tillatte hjelpemidler	Godkjent kalkulator

### Oppgave 1

Deriver følgende funksjoner:

a)  $f(x) = 9x^3 - 14x + \sqrt{24}$

b)  $f(x) = (x+1)\sin(2x)$

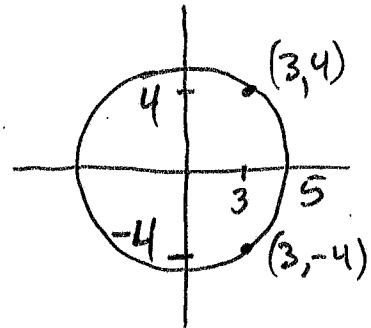
c)  $f(x) = \frac{1}{(x^2+1)\sqrt{x^2+1}}$

d)  $f(x) = \frac{\sin x - 1}{\cos x + 3}$

e)  $f(x) = \ln\left(\frac{2x-1}{x+2}\right)$

Finn likningene til følgende tangenter ved regning:

f) Tangentene i eventuelle punkter med  $x = 3$  på sirkelen  $x^2 + y^2 = 25$ .



### Oppgave 2

Vi ser på funksjonen  $f(x) = (x^2 - 4x + 4) \cdot e^x$ .

- Finn eventuelle nullpunkter for  $f$  ved regning. Svarene skal gis eksakt.
- Vis at  $f'(x) = x(x-2)e^x$ .
- Sett opp et fortegnsskjema for  $f'(x)$ , og bruk dette til å finne koordinatene til alle lokale topp- og bunnpunkter for  $f$ . Svarene skal gis eksakt.
- Finn  $f''(x)$  og  $x$ -koordinatene til eventuelle vendepunkter for  $f$ . Svarene skal gis eksakt. Tegn en skisse av grafen til  $f$ .

### Oppgave 3

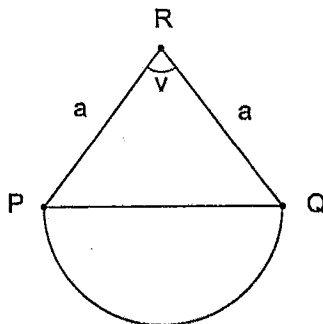
Punktene  $A$ ,  $B$ ,  $C$  i  $xyz$ -koordinatsystemet har alle avstand 4 fra origo  $O$ . Punktet  $A$  ligger på den positive  $x$ -aksen, punktet  $B$  ligger i første kvadrant av  $xy$ -planet, og punktet  $C$  ligger i første kvadrant av  $yz$ -planet. Videre er  $\angle AOB = \angle BOC = 60^\circ$ .

- Finn koordinatene til  $A$ ,  $B$  og  $C$ .
- Bestem volumet av den trekantede pyramiden  $OABC$ .

2

### Oppgave 4

Et parkanlegg har form som på figuren. Den består av en likebenet trekant  $\triangle PQR$  der  $PR = QR = a$  og  $\angle R = v$ , samt en halv sirkelflate med diameter lik  $PQ$ .



- a) Finn  $PQ$  uttrykt ved  $a$  og  $v$ .
- b) Vis at arealet  $A$  av anlegget kan skrives som

$$A = \frac{a^2}{4} (2 \sin v - \pi \cos v + \pi)$$

- c) La  $a$  ha en fast verdi. Bestem  $v$  slik at arealet blir størst mulig. Finn det største arealet når  $a = 22$  meter. Oppgi arealet i nærmeste hele kvadratmeter.

### Oppgave 5

Regn ut følgende ubestemte integraler:

- a)  $\int (12x^3 + 4e^x - 7) dx$
- b)  $\int (1/x^2 + 2/x + 3/\sqrt{x}) dx$
- c)  $\int \frac{x^2 - 5x + 1}{x^2 - 5x - 6} dx$
- d)  $\int \sin x \cos x dx$

Løs differensiallikningen med den gitte startbetingelsen:

e)  $y' \cdot (\sin x + 1) = y \cdot \cos x, \quad y(0) = 1/2$

Finn følgende areal ved regning:

- f) Arealet av området begrenset av grafen til  $y = \sin x + \cos x$ ,  $x$ -aksen og de to linjene  $x = 0$  og  $x = 3\pi/2$ .
- g) Arealet av området begrenset av grafen til  $y = \frac{x^3}{\sqrt{x^2+1}}$ ,  $x$ -aksen og linjene  $x = 0$  og  $x = 1$ .

Eksamen  
juni 2009

$$\begin{aligned} 1. a) \quad & (9x^3 - 14x + \sqrt{2x})' \\ \textcircled{3} \quad & = 9(x^3)' - 14(x)' + (\sqrt{2x})' \\ & = 9(3x^2) - 14 \cdot 1 + 0 \\ & = \underline{27x^2 - 14} \end{aligned}$$

21 mars  
2012

$$\begin{aligned} b) \quad & ((x+1) \sin(2x))' = (x+1)' \sin 2x + (x+1)(\sin(2x))' \\ & = 1 \cdot \sin 2x + (x+1)(\cos(2x) \cdot (2x)') \\ & = \underline{\sin(2x) + 2(x+1) \cdot \cos(2x)} \end{aligned}$$

$$\begin{aligned} c) \quad f(x) &= \frac{1}{(x^2+1)\sqrt{x^2+1}} = \frac{1}{(x^2+1)^1(x^2+1)^{1/2}} \\ &= \frac{1}{(x^2+1)^{3/2}} = ((x^2+1)^{3/2})^{-1} \\ &= (x^2+1)^{-3/2} \\ f'(x) &= ((x^2+1)^{-3/2})' = -\frac{3}{2}(x^2+1)^{-\frac{3}{2}-1} \cdot (x^2+1)' \\ &= -3x(x^2+1)^{-5/2} \\ &= \frac{-3x}{(x^2+1)^2 \sqrt{x^2+1}} = \frac{-3x}{(\sqrt{x^2+1})^5} \end{aligned}$$

Alternativt

$$\begin{aligned} & \left( \frac{1}{(x^2+1)\sqrt{x^2+1}} \right)' = \frac{(1)' \cdot g(x) - 1 \cdot g'(x)}{g^2(x)} \\ & = \frac{0 \cdot g(x) - ((x^2+1)\sqrt{x^2+1})'}{g^2(x)} \dots \end{aligned}$$

4

$$d) f(x) = \frac{\sin x - 1}{\cos x + 3} \quad (= (\sin x - 1) \cdot \frac{1}{\cos x + 3})$$

Kvotientenregel

$$\begin{aligned} f'(x) &= \frac{(\sin x - 1)' (\cos x + 3) - (\sin x - 1) (\cos x + 3)'}{(\cos x + 3)^2} \\ &= \frac{\cos x (\cos x + 3) - (\sin x - 1) (-\sin x)}{(\cos x + 3)^2} \\ &= \frac{\cos^2 x + 3\cos x + \sin^2 x - \sin x}{(\cos x + 3)^2} \\ &= \frac{1 + 3\cos x - \sin x}{(\cos x + 3)^2} \end{aligned}$$

$$e) \ln\left(\frac{2x-1}{x+2}\right)$$

$$\begin{aligned} &(\ln(f(x)))' \\ &= \frac{f'(x)}{f(x)} \end{aligned}$$

$$= \ln|2x-1| - \ln|x+2|$$

$$(\ln|2x-1| - \ln|x+2|)'$$

$$= \frac{(2x-1)'}{2x-1} - \frac{(x+2)'}{x+2}$$

$$= \frac{2}{2x-1} - \frac{1}{x+2}$$

$$= \frac{2(x+2) - (2x-1)}{(2x-1)(x+2)} = \frac{2x+4-2x+1}{(2x-1)(x+2)}$$

$$= \frac{5}{(2x-1)(x+2)}$$

1. f)

$$x^2 + y^2 = 5^2$$

implisitt derivasjon

⑤ 
$$\frac{d}{dx}(x^2 + y^2) = \frac{d}{dx}(5^2) = 0$$

$$2x + \frac{dy^2}{dy} \cdot \frac{dy}{dx} = 0$$

bruker  
kjerneregelen

$$2x + 2y \cdot \frac{dy}{dx} = 0$$

$$\frac{dy}{dx} = -\frac{x}{y} \quad y \neq 0$$

punktet (3,4) : 
$$\frac{dy}{dx} = -\frac{3}{4}$$

Tangentlinjen er 
$$y = -\frac{3}{4}(x-3) + 4$$

$$y = -\frac{3}{4}x + \frac{9}{4} + 4$$

$$y = -\frac{3}{4}x + \frac{25}{4}$$

$$y = \frac{1}{4}(-3x + 25)$$


punktet (3, -4) 
$$\frac{dy}{dx} = \frac{3}{4}$$

Tangentlinjen er 
$$y = \frac{3}{4}(x-3) - 4$$

2 a)  $f(x) = 0$

$(x^2 - 4x + 4)e^x = 0$

6



$(x^2 - 4x + 4) = 0$

$(x-2)^2 = 0$

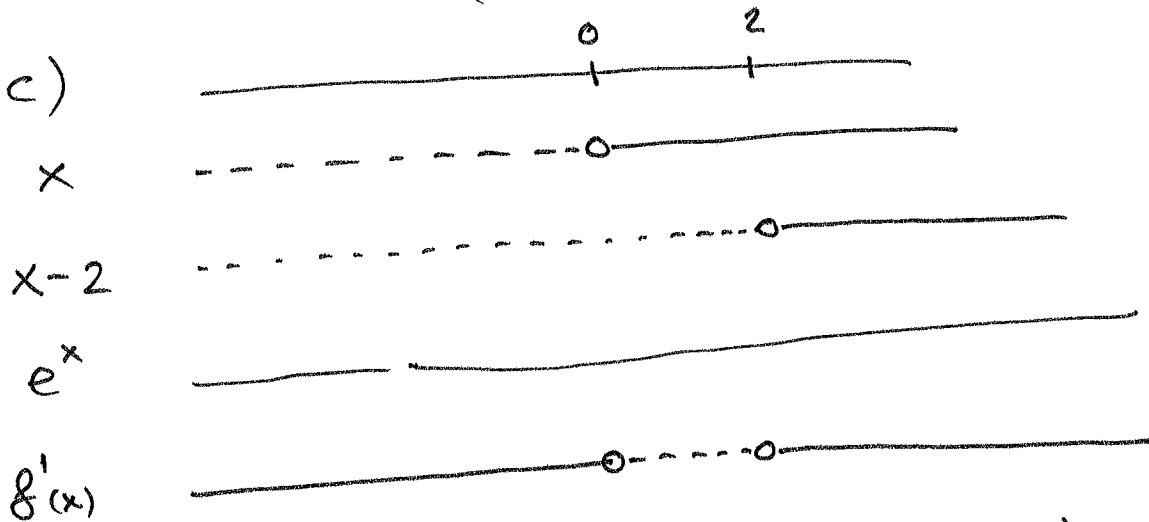
nulpunktet er  $x=2$

b)  $f(x) = (x^2 - 4x + 4) \cdot e^x$  (=  $(x-2)^2 e^x$ ) produktregel.

$f'(x) = (x^2 - 4x + 4)' \cdot e^x + (x^2 - 4x + 4) e^x$

$= (2x - 4) e^x + (x^2 - 4x + 4) e^x$

$= (x^2 - 2x) e^x = \underline{x(x-2) e^x}$



Lokalt toppunkt i  $(0, f(0)) = (0, 4)$

Lokalt bunnpunkt i  $(2, f(2)) = (2, 0)$

(dette er også et globalt bunnpunkt.)

$$2d) \quad f''(x) = (f'(x))'$$

$$\textcircled{7} \quad = (x(x-2)e^x)' \quad \text{produktregel}$$

$$= (x^2 - 2x)' e^x + (x^2 - 2x)(e^x)'$$

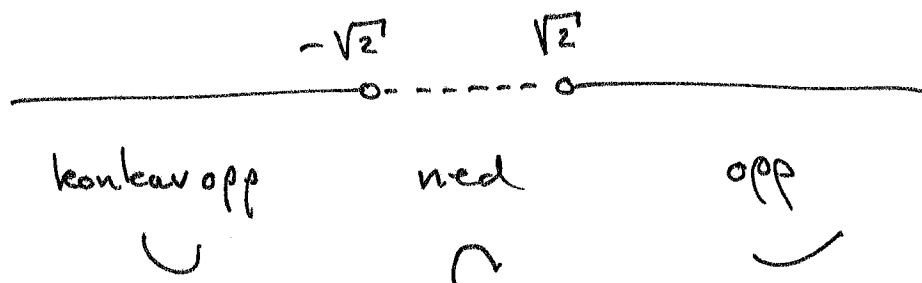
$$= ((2x - 2) + x^2 - 2x) e^x$$

$$= (x^2 - 2) e^x$$

$$f''(x) = 0 \quad \text{når} \quad x^2 - 2 = 0.$$

Det skjer når  $x = -\sqrt{2}$  eller  $x = \sqrt{2}$ .

Fortegn til  $f''(x)$ :



$f(x)$  skifter konkavitet for  $x = -\sqrt{2}$  og  $x = \sqrt{2}$ .

Vendepunktene til  $f(x)$  er:

$$(-\sqrt{2}, f(-\sqrt{2})) = \underline{(-\sqrt{2}, (2+\sqrt{2})^2 e^{-\sqrt{2}})} \sim (-1,41, 2,83)$$

$$(\sqrt{2}, f(\sqrt{2})) = \underline{(\sqrt{2}, (2-\sqrt{2})^2 e^{\sqrt{2}})} \sim (1,41, 1,41)$$

(Tallet  $(2-\sqrt{2})^2 e^{\sqrt{2}} = 1,41144\dots$   
er tilfeldigvis veldig nær  
 $\sqrt{2} = 1,41421\dots$ )

8

