

13.10.2011

Oppgaver relatert til oblig 2.

①

$$\sin 2x = \frac{1}{2}$$

Finn alle løsningene slik at $0 \leq x \leq 2\pi$.

1) $2x = u$ $\sin u = \frac{1}{2}$

2) Bestemme $x = \frac{u}{2}$ i intervallen $[0, 2\pi]$.



$$\sin^{-1} \frac{1}{2} = \arcsin \frac{1}{2} = \frac{\pi}{6} \quad (30^\circ)$$

Den andre løsningen mellom $-\pi/2$ og $3\pi/2$ er

$$\pi - \arcsin \frac{1}{2} = \pi - \frac{\pi}{6} = \frac{5\pi}{6} \quad (150^\circ)$$

Alle løsningene til $\sin u = \frac{1}{2}$ er

$$u = \frac{\pi}{6} + 2\pi \cdot n$$

n heltall.

$$u = \frac{5\pi}{6} + 2\pi \cdot n$$

2) $x = \frac{u}{2} = \frac{\pi}{12} + \pi \cdot n$ (1)

n heltall.

eller $x = \frac{5\pi}{12} + \pi \cdot n$ (2)

Løsningene mellom 0 og 2π er

$$x = \left\{ \frac{\pi}{12}, \frac{13\pi}{12}, \frac{5\pi}{12}, \frac{17\pi}{12} \right\}$$

$n=0$

$n=1$

$n=0$

$n=1$

(1)

(2)

② Absoluttverdier til et reelt tall

$$|x| = \begin{cases} x & x \geq 0 \\ -x & x \leq 0 \end{cases}$$

$$|5| = 5$$

$$| -2 | = 2$$

$$| 3 - 4 | = 1.$$

$$| 2x - 1 | \geq x^2$$

$$2x - 1 \geq 0$$

$$2x \geq 1$$

$$\underline{x \geq \frac{1}{2}}$$

$$2x - 1 \geq x^2$$

$$0 \geq x^2 - 2x + 1$$

$$0 \geq (x-1)^2$$

løsning $x=1$

$$2x - 1 \leq 0$$

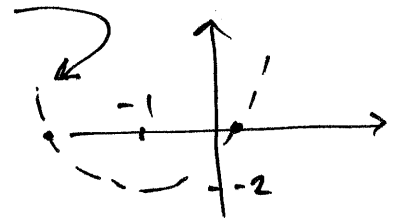
$$\underline{x \leq \frac{1}{2}}$$

$$1 - 2x \geq x^2$$

$$0 \geq x^2 + 2x - 1 = \cancel{(x+1)^2}$$

$$0 \geq (x+1)^2 - 2$$

$$2 \geq (x+1)^2$$



Løsningen til $0 \geq (x+1)^2 - 2$

er alle x -verdier mellom nullpunktene

$$\text{til } (x+1)^2 - 2 = x^2 + 2x - 1.$$

løsningene er $x+1 = \pm\sqrt{2}$.

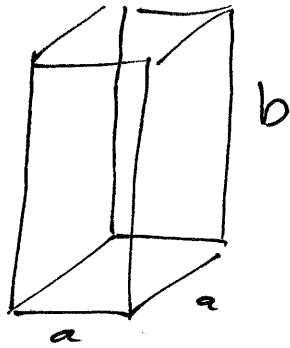
$$x = -1 \pm \sqrt{2}.$$

For $x \leq \frac{1}{2}$ er løsningsmengden $[-1 - \sqrt{2}, -1 + \sqrt{2}]$

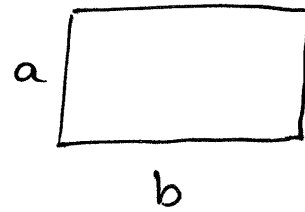
Løsningsmengden til $| 2x - 1 | \geq x^2$ er

$$\underline{\underline{[-1 - \sqrt{2}, -1 + \sqrt{2}] \cup \{1\}}}$$

3



$a, b > 0$



När er volumet lika arealet?

$$V = a^2 \cdot b$$

$$A = a \cdot b$$

$$A = V$$

$$a \cdot b = a^2 \cdot b$$

$a, b > 0$

delar med a och b

$$\frac{a \cdot b}{a \cdot b} = \frac{a \cdot a \cdot b}{a \cdot b}$$

$$\underline{\underline{1}} = a \quad \text{och alla } b.$$

Vi har inte burt enheter här.

Hadde vi burt enheter ville vi fått $a = 1$ (enhet för längd).

12.4 Produkt av skalar og vektor

④ (element i)
 $t \in \mathbb{R}$ reelt tall. Kalles gjerne en skalar.

\vec{V} vektor

$$2 \cdot \vec{V} = \vec{V} + \vec{V}$$



$$1 \cdot \vec{V} = \vec{V}$$

$$-1 \cdot \vec{V} = -\vec{V} \text{ motsatt vektoren.}$$

$z \cdot \vec{V}$ er en vektor med lengde

$|z| \cdot |\vec{V}|$ og samme retning som \vec{V} $z \geq 0$

motsatt retning som \vec{V} $z < 0$

$$0 \cdot \vec{V} = \vec{0}.$$

Regneregler:

$$s(t \cdot \vec{V}) = (s \cdot t) \vec{V}$$

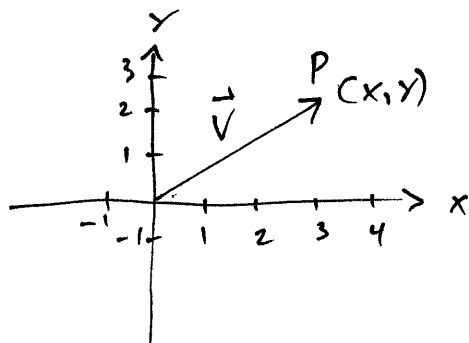
$$(s+t) \vec{V} = s \cdot \vec{V} + t \vec{V}$$

$$t(\vec{U} + \vec{V}) = t \cdot \vec{U} + t \vec{V}$$

Hvis $\vec{V} \neq \vec{0}$, da er \vec{V} og \vec{U} parallelle
vektorer hvis og bare hvis det finnes
en skalar t slik at $z \cdot \vec{V} = \vec{U}$.

(Hvis $\vec{U} = \vec{0}$ er \vec{U} og \vec{V} parallelle selv om
det ikke finnes en slik t .)

⑤ 12.5 Vektorer på koordinatform.
(Vektorer i et koordinatsystem)



\vec{v} er en vektor.

La \vec{v} starte i origo og la $P = (x, y)$ være endepunktet til \vec{v} .

Vi betegner $\vec{v} = [x, y]$.

(Vi bruker klamme parentes for å skille vektorer fra punkt.)

Hvis $[x_1, y_1] = [x_2, y_2]$, da er $x_1 = x_2$
 $y_1 = y_2$.

Lengden til $\vec{v} = [x, y]$ er $|\vec{v}| = \sqrt{x^2 + y^2}$.

Hvis $|\vec{v}| = 0$, da er $\vec{v} = \vec{0}$.

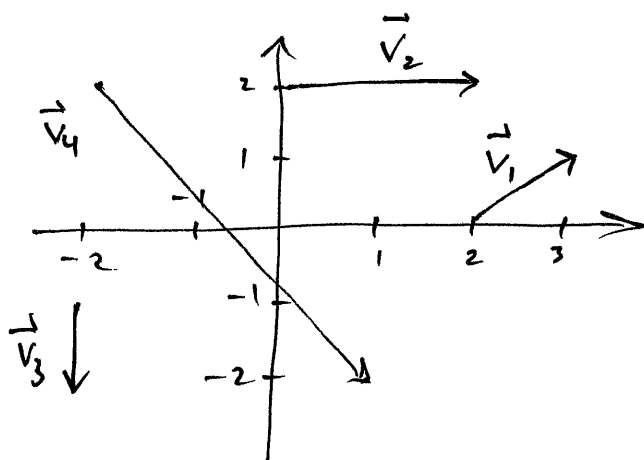
En enhetsvektor er en vektor med lengde 1.

$\vec{i} = \vec{e}_1 = [1, 0]$ $\vec{j} = \vec{e}_2 = [0, 1]$ er enhetsvektorer.

↳ dette er i

$$\vec{v} = [x, y] = x\vec{e}_1 + y\vec{e}_2$$

⑥ Finn vektorkoordinatene til vektorene



$$\begin{aligned}\vec{v}_1 &= [1, 1] \\ \vec{v}_2 &= [2, 0] \\ \vec{v}_3 &= [0, -1] \\ \vec{v}_4 &= [3, 4]\end{aligned}$$

Vektorlikninger

* Hastighetsvektoren for en ball som kastes

$$\text{er } \vec{v} = [a, b - gt]$$

Når er hastighetsvektoren horisontal?
(parallel med x-aksen)

$$\text{Når } x\text{-komponenten er } 0 : \quad b - g \cdot t = 0 \\ \underline{\underline{t = \frac{b}{g}}}$$

* Bestem s slik at

$$\vec{V} = [s, 2] \quad \text{og} \quad \vec{U} = [s^2, 1-s]$$

bli parallelle.



⑦ vektoren \vec{v} er alltid ulik $\vec{0}$.

Derfor er \vec{v} og $\vec{0}$ parallelle hvis og bare hvis det finnes en t slik at

$$t\vec{v} = \vec{0}$$

$$[t \cdot s, 2 \cdot t] = [s^2, 1 - s].$$

$$t \cdot s = s^2 \quad : \quad s=0 \text{ eller } t=s$$

$$2t = 1 - s$$

$s=0$ er en løsning : $\frac{1}{2}[0, 2] = [0, 1]$

sjekker tilfellet $t=s$: $2s = 2t = 1 - s$

$$\text{så } 3s = 1$$

$$s = \frac{1}{3}$$

test: $\frac{1}{3}[\frac{1}{3}, 2] = [\frac{1}{9}, \frac{2}{3}]$.

Løsningene er $s=0$ og $s=\frac{1}{3}$