

Heldagsprøve i FO929A – matematikk

Dato: 7. desember 2010

Tidspunkt: 09:00 – 14:00

Antall oppgaver 4

Vedlegg: Formelsamling

Tillatte hjelpemidler: Godkjent kalkulator

Alle svar skal grunngis.

Forsøk å gi svarene eksakt der det er mulig.

Løsningsforslag

Oppgave 1

a)

$$\begin{aligned}3x^2 - 3x - 36 &= 0 \\x^2 - x - 12 &= 0 \\x &= \frac{-(-1) \pm \sqrt{(-1)^2 - 4 \cdot 1 \cdot (-12)}}{2 \cdot 1} = \frac{1 \pm 7}{2} \\x &= \frac{1+7}{2} = 4 \quad \vee \quad x = \frac{1-7}{2} = -3\end{aligned}$$

b)

$$\begin{aligned}x^5 - 5^3 &= 3000 \\x^5 &= 3000 + 5^3 = 3125 \\x &= \sqrt[5]{3125} = 5\end{aligned}$$

c) $\cos v = \frac{1}{2}$, $0^\circ \leq v < 360^\circ$
 $\cos^{-1} \frac{1}{2} = 60^\circ$.

Av enhetssirkelen ser vi at $v = -60^\circ$ også er en løsning. Den generelle løsningen blir da: $v = 60^\circ + n \cdot 360^\circ$ eller $v = -60^\circ + n \cdot 360^\circ$, der $n \in \mathbb{Z}$. Siden v skal ligge i første omløp, får vi:

$$\underline{\underline{v = 60^\circ \quad \vee \quad v = -60^\circ + 360^\circ = 300^\circ}}$$

d) $\sin v + \cos v = 0, \quad 0 \leq v < 4\pi.$

Antar $\cos v \neq 0$:

$$\frac{\sin v}{\cos v} + \frac{\sin v}{\cos v} = 0$$

$$\tan v = -1$$

$$\tan^{-1}(-1) = -\frac{\pi}{4}.$$

Generell løsning: $v = -\frac{\pi}{4} + n \cdot \pi, \quad n \in \mathbb{Z}.$

For $v \in [0, 4\pi)$ får vi løsninger for $n = 1, n = 2, n = 3$ og $n = 4$:

$$\underline{\underline{v = \frac{3\pi}{4} \vee v = \frac{7\pi}{4} \vee v = \frac{11\pi}{4} \vee v = \frac{15\pi}{4} .}}$$

e)

$$\begin{aligned} -2x + y &= 5 & (I) \\ -x + 4y &= 13 & (II). \end{aligned}$$

Likn. (I): $y = 2x + 5$. Setter (I) inn i (II):

$$\begin{aligned} -x + 4(2x + 5) &= 13 \\ -x + 8x + 20 &= 13 \\ 7x &= 13 - 20 = -7 \\ x &= -1. \end{aligned}$$

Likn. (I): $y = 2 \cdot (-1) + 5 = 3$.

Løsning:

$$\underline{\underline{x = -1 \wedge y = 3.}}$$

f)

$$\begin{aligned} 2x + 3 &< 7(x + 1) \\ 2x - 7x &< 7 - 3 \\ -5x &< 4 \\ \frac{-5x}{-5} &> \frac{4}{-5} \\ \underline{\underline{x > -\frac{4}{5} .}} \end{aligned}$$

g)

$$\frac{3x^2 - x - 40}{x - 2} \geq 2$$

$$\frac{3x^2 - x - 40 - 2(x - 2)}{x - 2} \geq 0$$

$$\frac{3x^2 - 3x - 36}{x - 2} \geq 0$$

Vi ser at vi fant nullpunktene til telleren i oppg. 1 a). Dermed har vi også faktoriseringen av telleren:

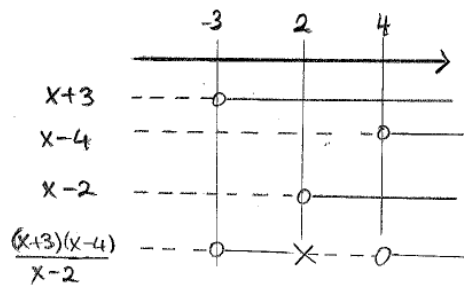
$$3x^2 - 3x - 36 = 3(x + 3)(x - 4).$$

Altså:

$$\frac{3(x + 3)(x - 4)}{x - 2} \geq 0$$

$$\frac{(x + 3)(x - 4)}{x - 2} \geq 0.$$

Fortegnsskjema:



Løsning:

$$\underline{\underline{-3 \leq x < 2 \vee x \geq 4.}}$$

h)

$$8 \sin v + 4 \cos^2 v = 7, \quad 0^\circ \leq v < 360^\circ.$$

Vi bruker sammenhengen $\sin^2 v + \cos^2 v = 1$:

$$\begin{aligned} 8 \sin v + 4(1 - \sin^2 v) &= 7 \\ -4 \sin^2 v + 8 \sin v - 3 &= 0 \\ \sin v &= \frac{-8 \pm \sqrt{8^2 - 4 \cdot (-4) \cdot (-3)}}{2 \cdot (-4)} = \frac{-8 \pm 4}{-8} = \frac{2 \mp 1}{2} \\ \sin v &= \frac{1}{2} \vee \sin v = \frac{3}{2}. \end{aligned}$$

Siden $\sin v$ aldri kan bli større enn 1, vil ikke likninga

$\sin v = 3/2$ gi noen løsning.

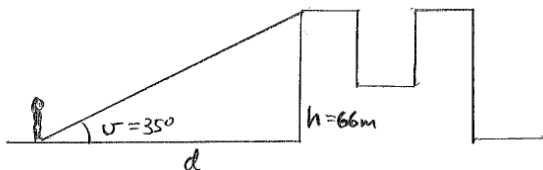
$$\sin^{-1} \frac{1}{2} = 30^\circ.$$

Av enhetssirkelen ser vi at $v = 180^\circ - 30^\circ = 150^\circ$ også er en løsning. Dette er alle løsningene når v skal ligge i første omløp.

Altså:

$$\underline{\underline{v = 30^\circ \vee v = 150^\circ.}}$$

Oppgave 2



a) Av figuren ser vi at $\tan v = h/d$ slik at

$$d = \frac{h}{\tan v} = \frac{66 \text{ m}}{\tan 35^\circ} \approx 94,3 \text{ m}.$$

Kari står 94,3 m fra Rådhuset.

b) Cossinussetninga gir at

$$\begin{aligned} (AB)^2 &= (AC)^2 + (BC)^2 - 2(AC) \cdot (BC) \cos C = \\ &= 16,1^2 + 9,0^2 - 2 \cdot 16,1 \cdot 9,0 \cos 28^\circ \approx 84,33 \\ \underline{\underline{AB}} &= \underline{\underline{\sqrt{84,33} = 9,183 \approx 9,2.}} \end{aligned}$$

Sinussetninga gir:

$$\frac{\sin B}{AC} = \frac{\sin C}{AB}$$

$$\sin B = \frac{AC}{AB} \sin C = \frac{16,1}{9,183} \sin 28^\circ \approx 0,8231$$

$$\sin^{-1} 0,8231 = 55,40^\circ.$$

Det betyr at $\angle B = 55,40^\circ$ eller at

$\angle B = 180^\circ - 55,40^\circ \approx 124,6^\circ$. Av figuren ser vi at det er den siste løsningen som er riktig; $\angle B = 124,6^\circ$.

Siden $\angle A + \angle B + \angle C = 189^\circ$, får vi at $\angle A = 180^\circ - 28^\circ - 124,6^\circ = 27,4^\circ$.

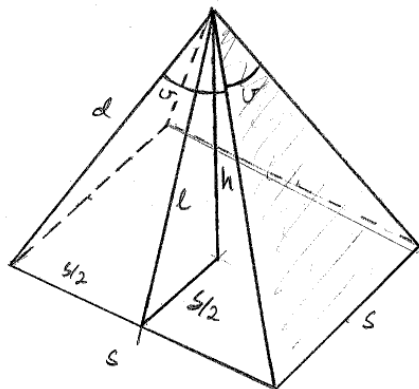
- c) Volumet er $V = Gh/3$ der $h = 138,8 \text{ m}$ er høyden av pyramiden. Grunnflatearealet $G = s^2$, der $s = 230,4 \text{ m}$ er lengda av sidekantene.

$$V = \frac{1}{3}s^2h = \frac{1}{3} \cdot (230,4 \text{ m})^2 \cdot 138,8 \text{ m} = 2,456 \cdot 10^6 \text{ m}^3 \approx 2,46 \cdot 10^6 \text{ m}^3.$$

Volumet er $2,46 \cdot 10^6 \text{ m}^3$.

- d) Av figuren under ser vi at trekanten med sider l , h og $s/2$ danner en rettvinkla trekant.

Pytagoras setning gir da at



$$l^2 = (s/2)^2 + h^2 = (230,4 \text{ m}/2)^2 + (138,8 \text{ m})^2 = 32536 \text{ m}^2.$$

Videre er trekanten med sider d , $s/2$ og l også rettvinkla. Pytagoras setning gir her at

$$d^2 = (s/2)^2 + l^2 = (230,4 \text{ m}/2)^2 + 32536 \text{ m}^2 = 45808 \text{ m}^2,$$

slik at sidekanten har lengda

$$d = \sqrt{45808 \text{ m}^2} = \underline{\underline{214,0 \text{ m}}}.$$

e) Av figuren over ser vi at vinkelen v oppfyller

$$\sin \frac{v}{2} = \frac{\frac{s}{2}}{d} = \frac{s}{2d} = \frac{230,4 \text{ m}}{2 \cdot 214,0 \text{ m}} = 0,5383.$$

Derfor får vi at vinkelen $v = 2 \sin^{-1} 0,5383 \approx \underline{\underline{65,1^\circ}}$.

Oppgave 3

$A(2, 1, -3)$, $B(5, 2, 2)$, $C(3, -2, 2)$.

a)

$$\begin{aligned} \vec{AB} &= [5 - 2, 2 - 1, 2 - (-3)] = [3, 1, 5] \\ |\vec{AB}| &= \sqrt{3^2 + 1^2 + 5^2} = \underline{\underline{\sqrt{35}}} \\ \vec{AC} &= [3 - 2, -2 - 1, 2 - (-3)] = [1, -3, 5] \\ |\vec{AC}| &= \sqrt{1 + (-3)^2 + 5^2} = \underline{\underline{\sqrt{35}}} \\ \vec{BC} &= [3 - 5, -2 - 2, 2 - 2] = [-2, -4, 0] \\ |\vec{BC}| &= \sqrt{(-2)^2 + (-4)^2} = \sqrt{20} = \underline{\underline{2\sqrt{5}}}. \end{aligned}$$

b) Definisjonen av skalarprodukt gir:

$$\begin{aligned} \vec{AB} \cdot \vec{AC} &= |\vec{AB}| \cdot |\vec{AC}| \cdot \cos A \\ \cos A &= \frac{\vec{AB} \cdot \vec{AC}}{|\vec{AB}| \cdot |\vec{AC}|} = \frac{[3, 1, 5] \cdot [1, -3, 5]}{\sqrt{35} \cdot \sqrt{35}} = \frac{3 \cdot 1 + 1 \cdot (-3) + 5 \cdot 5}{35} = \frac{5}{7} \\ \angle A &= \cos^{-1} \frac{5}{7} \approx \underline{\underline{44,4^\circ}}. \end{aligned}$$

- c) Arealet T kan vi finne ved formelen $T = 1/2 |\vec{AB}| \cdot |\vec{AC}| \cdot \sin A$. Videre veit vi at $\cos A = 5/7$. Dermed gir formelen $\sin^2 A + \cos^2 A = 1$ at

$$\sin A = \sqrt{1 - \cos^2 A} = \sqrt{1 - (5/7)^2} = \sqrt{\frac{24}{49}} = \frac{2\sqrt{6}}{7}.$$

(Vi veit at $\sin A$ skal vere positiv siden alle vinklene i en trekant må ligge mellom 0° og 180° .) Dermed blir arealet

$$T = \frac{1}{2} \cdot \sqrt{35} \cdot \sqrt{35} \cdot \frac{2\sqrt{6}}{7} = \frac{5 \cdot 7 \cdot 2 \cdot \sqrt{6}}{2 \cdot 7} = \underline{\underline{5\sqrt{6}}}.$$

- d) Linja l skal stå normalt på $\triangle ABC$. Derfor må l være parallell med $\vec{AB} \times \vec{AC}$.

$$\begin{aligned} \vec{AB} \times \vec{AC} &= \begin{vmatrix} \vec{e}_1 & \vec{e}_2 & \vec{e}_3 \\ 3 & 1 & 5 \\ 1 & -3 & 5 \end{vmatrix} = \\ & \vec{e}_1 \cdot 1 \cdot 5 + \vec{e}_2 \cdot 5 \cdot 1 + \vec{e}_3 \cdot 3 \cdot (-3) - \vec{e}_3 \cdot 1 \cdot 1 - \vec{e}_1 \cdot 5 \cdot (-3) - \vec{e}_2 \cdot 3 \cdot 5 = \\ & [20, -10, -10] = -10 \cdot [-2, 1, 1]. \end{aligned}$$

Dermed er l parallell med vektoren $[-2, 1, 1]$. Siden l skal gå gjennom punktet $A(2, 1, -3)$, kan vi sette opp denne parameterframstillinga:

$$\begin{cases} x = 2 - 2t \\ y = 1 + t \\ z = -3 + t. \end{cases}$$

- e) Punktet D skal ha x -, y - og z -koordinater som oppfyller parameterframstillinga over. Videre skal vi ha at $z = -8$. Det gir at $-8 = -3 + t$, som igjen gir at $t = -8 + 3 = -5$. Dermed får vi at $x = 2 - 2 \cdot (-5) = 12$ og $y = 1 + (-5) = -4$. Punktet D har altså koordinatene $(12, -4, -8)$.

Oppgave 4

$$\vec{u} = [4, -1], \vec{v} = [2 + s, -1 + 3s].$$

- a) For at \vec{u} og \vec{v} skal stå normalt på hverandre, må skalarproduktet mellom dem være 0:

$$\begin{aligned} \vec{u} \cdot \vec{v} &= 0 \\ [4, -1] \cdot [2 + s, -1 + 3s] &= 0 \\ 4(2 + s) + (-1)(-1 + 3s) &= 0 \\ 8 + 4s + 1 - 3s &= 0 \\ s + 9 &= 0 \\ \underline{\underline{s = -9}} \end{aligned}$$

- b) To vektorer i planet på komponentform som begge er ulike nulvektor, er parallelle hvis og bare hvis determinanten mellom dem er 0:

$$\begin{aligned} \begin{vmatrix} 4 & -1 \\ 2 + s & -1 + 3s \end{vmatrix} &= 0 \\ 4(-1 + 3s) - (-1)(2 + s) &= 0 \\ -4 + 12s + 2 + s &= 0 \\ 13s &= 2 \\ s &= \frac{2}{13}. \end{aligned}$$

- c) Avstanden fra A til x -aksen er det samme som y -komponenten til \vec{A} , som er 5.

$\vec{FA} = [8-4, 5-2] = [4, 3]$ slik at $|\vec{FA}| = \sqrt{4^2 + 3^2} = 5$. Altså er avstanden mellom A og F lik avstanden mellom A og x -aksen.

- d) På samme måte som over, er avstanden mellom P og x -aksen lik y .

$\vec{FP} = [x-4, y-2]$ slik at $|\vec{FP}| = \sqrt{(x-4)^2 + (y-2)^2}$. Siden disse avstandene skal være like, får vi

$$\begin{aligned} y &= \sqrt{(x-4)^2 + (y-2)^2} \\ y^2 &= (x-4)^2 + (y-2)^2. \end{aligned}$$

e) Likninga over gir

$$\begin{aligned}y^2 &= x^2 + 4^2 - 2 \cdot 4 \cdot x + y^2 + 2^2 - 2 \cdot 2 \cdot y \\y^2 - y^2 + 4y &= x^2 + 20 - 8x \\y &= \frac{1}{4}x^2 - 2x + 5\end{aligned}$$

Vi ser at likninga beskriver en andregradsfunksjon. Grafen til en slik funksjon kaller vi en parabel.

Vi finner skjæringspunktet med y -aksen ved å sette $x = 0$. Dette gir at $y = 1/4 \cdot 0^2 - 2 \cdot 0 + 5 = 5$ slik at skjæringspunktet blir $(0, 5)$.